



# الگوسازان و برشکاران پوشاک و مانند آن

عنوان شغل:

الگو سازی و برشکاری لباس بچه گانه

کد شغل: ۷۵۳۲۱۳۰۰۰۰

نمونه سؤالات شایستگی:

الگوساز و برشکار لباس زیر دخترانه و پسرانه

کد شایستگی: ۷۵۳۲۱۰۰۰۲۷

معاونت پژوهش، برنامه ریزی و سنجش مهارت

دفتر سنجش مهارت و صلاحیت حرفه ای

۱- روش اندازه گیری طول بالاتنه بچه تا ۹ سال چگونه است ؟

الف- از گودی گردن تا باسن بزرگ

ب- از گودی گردن تا باسن کوچک

ج- از سرشانه تا کمر

د- از گودی گردن تا کمر

۲- اندازه سرشانه در پیراهن نوزاد..... می باشد .

الف- ۳ سانتی متر

ب- ۴ سانتی متر

ج- ۶ سانتی متر

د- ۷ سانتی متر

۳- طریقه اندازه گیری قد بالاتنه بچه ۲ تا ۱۲ سال چگونه می باشد ؟

الف- از گوشه گردن سرشانه تا کمر

ب- از گودی گردن تا باسن بزرگ

ج- از گودی گردن تا باسن کوچک

د- از گودی گردن تا خط کمر

۴- عرض کادر الگوی بالاتنه کودک راچگون محاسبه می کنیم ؟

الف- دور سینه + ۴ سانتی متر

ب- ۲/۱ دور سینه + ۵ سانتی متر

ج- ۴/۱ دور سینه + ۲ سانتی متر

د- دور سینه + ۲ سانتی متر

۵- جهت ترسیم زوایای الگو از کدام وسیله زیر استفاده می شود؟

الف- پیستوله

ب- خط کش به فرم T

ج- گونیا اشل

د- گونیا

۶- نقطه موازنه یعنی چه؟

الف- نقاطی که باید کنار هم دوخته شود.

ب- نقاطی نباید با هم دوخته شوند.

ج- نقاطی که از هم فاصله دارند.

د- نقاطی که مخالف هم دوخته می شوند.

۷- برای رسم شکم بند نوزاد طول کادر چگونه به دست می آید؟

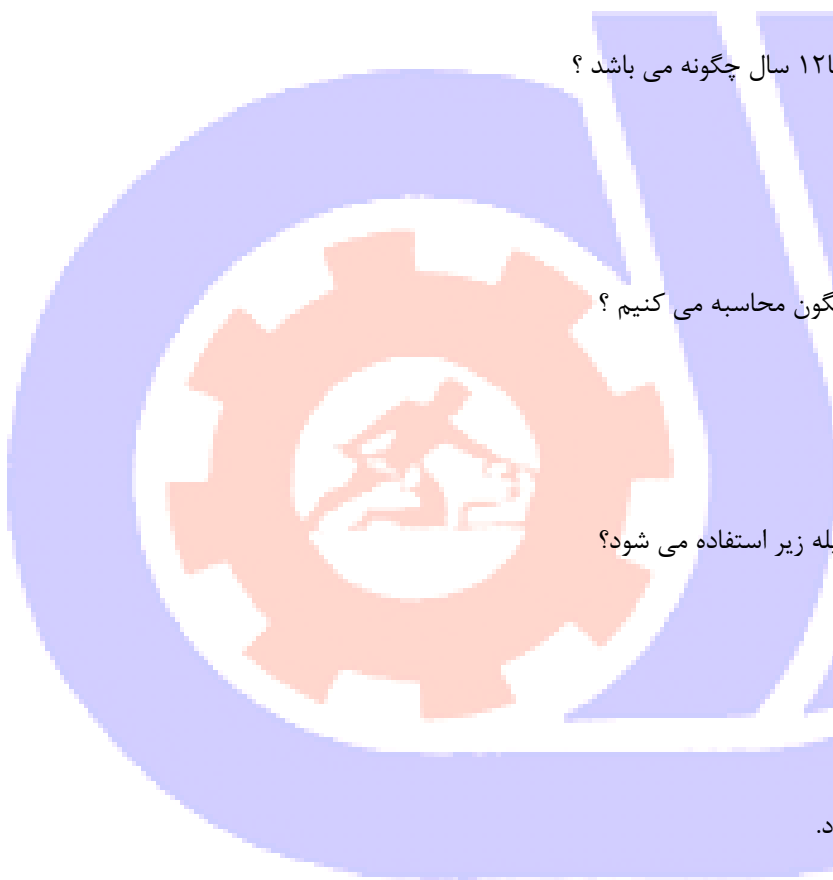
الف- دور باسن + ۱۰ سانتی متر

ب- یک چهارم دور باسن + ۱۰ سانتی متر

ج- نصف دور باسن + ۱۰ سانتی متر

د- یک ششم دور باسن + ۱۰ سانتی متر

۸- طول کادر برای رسم شورت نوزاد چگونه بدست می آید؟



الف- نصف بلندی وسط پا + ۵ سانتی متر

ب- بلندی وسط پا + ۵ سانتی متر

ج- یک چهارم بلندی وسط پا + ۵ سانتی متر

د- دوبرابر بلندی وسط پا + ۵ سانتی متر

۹- عرض کادر برای رسم شورت نوزاد چگونه بدست می آید؟

الف- نصف دور باسن + ۵ سانتی متر

ب- یک چهارم دور باسن + ۵ سانتی متر

ج- دور باسن + ۵ سانتی متر

د- دو برابر دور باسن + ۵ سانتی متر

۱۰- برای کادر پیراهن نوزاد تا سه ماهه چه اندازه ای صحیح است؟

الف- ۲۵در۲۵ سانتی متر و نصف کارور جلو

ب- ۲۷در۲۷ سانتی متر و نصف کارور جلو

ج- ۲۳در۲۳ سانتی متر و نصف کارور جلو

د- ۲۳در۲۳ سانتی متر و نصف کارور پشت

۱۱- کادر پیراهن نوزاد از ۳ تا ۶ ماهه را چگونه محاسبه می کنیم؟

الف- ۲۵در۲۵ سانتی متر و نصف کارور جلو

ب- ۲۷در۲۷ سانتی متر و نصف کارور جلو

ج- ۲۵در۲۵ سانتی متر کارور جلو

د- ۲۷در۲۷ سانتی متر و کارور جلو

۱۲- کادر پیراهن نوزاد از ۶ تا ۹ ماهه چگونه رسم می گردد؟

الف- ۲۵در۲۵ سانتی متر و نصف کارور جلو

ب- ۲۷در۲۷ سانتی متر و نصف کارور جلو

ج- ۲۵در۲۵ سانتی متر کارور جلو

د- ۲۷در۲۷ سانتی متر و کارور جلو

۱۳- از این وسیله برای کشیدن خطوط راست استفاده می شود؟

الف- متر

ب- خط کش گونیا

ج- خط کش

د- خط کش موازنه

۱۴- از این وسیله برای مشخص کردن مقدار اضافه درز استفاده می گردد؟

الف- خط کش موازنه


ب- گونیا

ج- متر

د- پا صاف کن

۱۵- عرض و طول پنس کمریچه تا ۱۲ سال چند سانتی متر است؟

الف- عرض ۳ سانتی متر و طول ۱۰ سانتی متر



- ب- عرض ۲ سانتی متر و طول ۶ سانتی متر
  - ج- عرض ۲ سانتی متر و طول ۸ سانتی متر
  - د- عرض ۲ سانتی متر و طول ۱۰ سانتی متر
- ۱۶- از خط کش موازنه در چه مواردی استفاده می شود؟

- الف- برای رسم خطوط راست
  - ب- برای یکنواخت کردن لبه لباس
  - ج- فقط برای رسم خطوط موازنه
  - د- برای مشخص کردن اضافه درز و خطوط موازنه
- ۱۷- از این وسیله برای یکنواخت کردن لبه لباس استفاده می شود؟

- الف- متر
  - ب- خط کش
  - ج- خط کش موازنه
  - د- پا صاف کن
- ۱۸- از پا صاف کن برای در چه مواردی استفاده می گردد؟

- الف- برای کشیدن خطوط یکنواخت
  - ب- برای کشیدن خطوط یکنواخت در لبه لباس
  - ج- برای رسم خطوط موازنه
  - د- برای مشخص کردن مقدار اضافه درز
- ۱۹- برای رسم خطوط منحنی از چه نوع خط کشی استفاده می شود؟

- الف- پیستوله
  - ب- متر
  - ج- گونیا
  - د- خط کش موازنه
- ۲۰- از پیستوله در چه مواردی استفاده می شود؟

- الف- برای کشیدن خطوط راست
  - ب- برای کشیدن نقاط موازنه
  - ج- برای کشیدن خطوط منحنی
  - د- برای مشخص کردن اضافه درز
- ۲۱- کدام گروه جزء وسایل اندازه گیری هستند؟

- الف- گونیا، متر، رولت
  - ب- مداد، خط کش، پیستوله
  - ج- پیستوله، پا صاف، متر
  - د- گج، بشکاف، خط کش
- ۲۲- از این ابزار برای انتقال الگو استفاده می شود؟

- الف- وسایل برش
- ب- وسایل اندازه گیری



ج- وسایل علامت گذاری

د- وسایل دوخت

۲۳- پارچه های بد اتورا چگونه باید اتوزد؟

الف- با استفاده از اتوپرس

ب- با استفاده از فویل آلومینیومی در زیر پوشش اتو

ج- با استفاده از اتوی سرد و گرم

د- ب استفاده از اتو مخزن دار

۲۴- اتو را چگونه باید روی پارچه کشید؟

الف- به موازات راسته پارچه

ب- به موازات اریب پارچه

ج- به موازات بیراه پارچه

د- فرقی نمی کند

۲۵- کف اتاق کار بهتر است با چه چیزی پوشش داده شود؟

الف- با کف پوش های قابل شستشو

ب- با پتو وفرش

ج- باموکت

د- باقالی

۲۶- مهم ترین نکته در هنگام خرید قیچی کدام است؟

الف- رنگ قیچی

ب- شکل قیچی

ج- جنس قیچی

د- اندازه قیچی

۲۷- قیچی ..... برای باز کردن سوراخ جادکمه به کار می رود .

الف- قیچی ساده خیاطی

ب- قیچی برش کوچک

ج- قیچی برقی خانگی

د- قیچی کوچک نوک تیز

۲۸- معمولا طول سانتی متر های موجود (متر خیاطی) چقدر است؟

الف- ۱۲۰ سانتی متر

ب- ۱۵۰ سانتی متر

ج- ۱۰۰ سانتی متر

د- ۵۰ سانتی متر

۲۹- روش گشاد کردن حلقه بالاتنه و حلقه آستین در کدام گزینه آمده است؟

الف- در بالاتنه ۲ سانتی متر از پهلو پایین آمده ۳ سانتی متر بیرون می آییم.

ب- در حلقه آستین ۱ سانتی متر از زیر بغل پایین آمده و ۲ سانتی متر بیرون می آییم.

ج- در حلقه آستین و بالاتنه ۳ سانتی متر پایین آمده و ۲ سانتی متر بیرون می آییم.



د- هر اندازه بالاتنه گشادشد استین هم گشاد میشود.

۳۰- خطی که یقه به حلقه گردن دوخته میشود؟

الف- خط طرح یقه

ب- خط گردن

ج- برگشت یقه

د- پایه یقه

۳۱- به خط خارجی یقه چه گفته می شود؟

الف- خط طرح یقه

ب- خط گردن

ج- برگشت یقه

د- پایه یقه

۳۲- مقداری از یقه که بالاتر از یقه می ایستد؟

الف- خط طرح یقه

ب- خط گردن

ج- برگشت یقه

د- پایه یقه

۳۳- از این خطوط بیشتر در لباس های بچگانه استفاده می شود؟

الف- عمودی

ب- شکسته

ج- افقی

د- منحنی

۳۴- برای رسم یقه حلزونی سرشانه جلو و پشت چه مقدار روی هم می آید؟

الف- ۵/۰ سانتی متر

ب- ۵/۱ سانتی متر

ج- ۵/۲ سانتی متر

د- ۲ سانتی متر

۳۵- درز های اصلی کدام درزها می باشند؟

الف- سجاف ها ، یقه

ب- مچ ها ، برش ها

ج- درز پهلوی ، برش ها

د- پایین لباس ، مچ ها

۳۶- محل پنس بزرگ جلو..... می باشد.

الف- یک سوم سمت چپ گشادی جلو تاگودی پهلو

ب- یک دوم گشادی جلو تاگودی پهلو

ج- یک چهارم گشادی جلو

د- یک سوم سمت راست گشادی جلو تا گودی پهلو



۳۷- برای رسم کاپ استین بچه تا ۱۲ سال چه مقدار از کادر آستین پایین می آیم؟

الف- یک پنجم کادر آستین

ب- یک دوم عرض کادر آستین

ج- یک پنجم قد آستین

د- یک دوم قد آستین + ۴

۳۸- نقش پنس ها در الگو بالا تنه دخترانه که سینه برجسته ندارند ..... .

الف- برای ایجاد زیبایی بالاتنه

ب- برای ایجاد برش مناسب نیست

ج- پنس سرشانه نسبت به بزرگسال کمتر می باشد

د- زیبایی بالاتنه و برش ها نقش پنس ها موثر است.

۳۹- کارور پشت بال اتنه با چه فرمولی رسم می شود؟

الف- یک دوم کارور جلو - ۲ میلی متر

ب- یک دوم کارور پشت + ۲ میلی متر

ج- یک دوم کارور پشت + ۵/۰ سانتی متر

د- یک دوم کارور پشت + ۱ سانتی متر

۴۰- برای رسم کدام یقه الگو بالاتنه بکار نمی رود؟

الف- شال

ب- انگلیسی

ج- فرنجی

د- آمریکایی

۴۱- برای رسم الگوی اساس آستین بچه های ۲ تا ۱۲ سال معمولا به اطراف بازو چند سانتی متر اضافه می شود؟

الف- ۶ سانت

ب- ۵/۵ سانت

ج- ۳ سانت

د- ۵/۱ سانت

۴۲- برای کشیدن الگوی یقه شکاری چه اندازه ای احتیاج می باشد؟

الف- نصف اطراف یقه

ب- نصف اطراف گردن لباس

ج- نصف اطراف گردن + ۵/۰

د- نصف اطراف گردن + ۵/۱

۴۳- معمولا در اندازه های بچگانه به چه قسمتی بلندی باسن گفته می شود؟

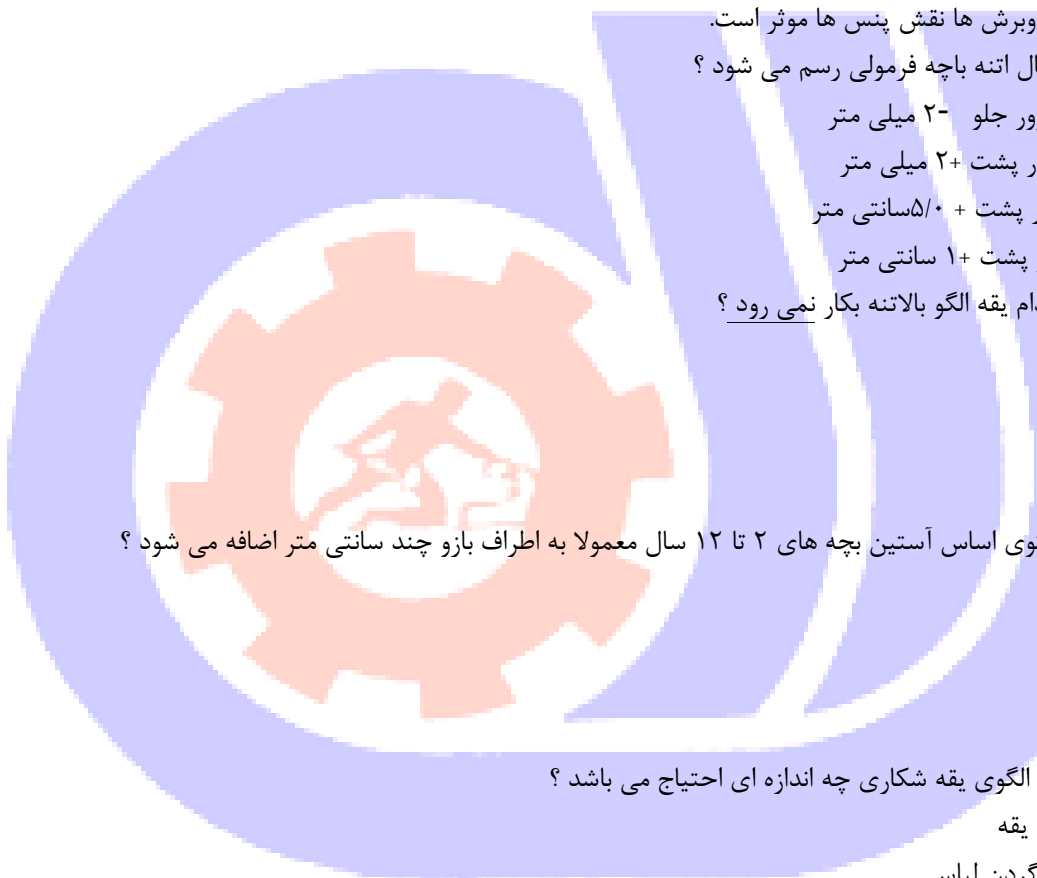
الف- بلندی وسط پا از کمر جلو تا کمر پشت

ب- بلندی وسط پا از فاق تازمین

ج- فاصله کمر تا باسن کوچک

د- از خط کمر تا خط باسن بزرگ

۴۴- در موقع کشیدن الگوی اساس لباس بچه از ۱۰ تا ۱۳ سال برای رسم هلال یقه الگوی پشت از چه اندازه ای استفاده می شود



؟

الف- ۱۶/۱ اطراف گردن + ۵/۰

ب- ۱۶/۱ اطراف گردن + ۱

ج- ۶/۱ اطراف گردن + ۵/۰

د- ۶/۱ اطراف گردن + ۱

۴۵- برای نوزادان رنگ های پارچه را از طبقه ..... انتخاب می کنند .

الف- تیره

ب- روشن

ج- سرخ و زرد

د- بنفش و زرد

۴۶- از کاربن خیاطی چه استفاده ای می شود ؟

الف- جهت اتصال خطوط روی کاغذالگو

ب- جهت انتقال الگوری پارچه

ج- جهت ترسیم خطوط وزوایا

د- جهت اتصال پنس ها

۴۷- طول یا تار پارچه از الیاف ..... و ..... تهیه می شود .

الف- ضخیم تر و مقاوم تر

ب- ضخیم تر ولطیف تر

ج- ظریف ومقاوم

د- ظریف ونازک

۴۸- در صورت نیازمندی به ایجاد درز در لباس نوزاد چه کنیم ؟

الف- درزها راپهن میگیریم.

ب- اضافات درزهاراکم کرده و به صورت درزشکسته عمل میکنیم.

ج- درزها رااز بیرون میدوزیم.

د- به صورت معمولی درزهاراسردوزی میکنیم.

۴۹- در لباس زیر نوزاد از چه یقه ای استفاده می شود ؟

الف- یقه شکاری

ب- یقه ب ب

ج- یقه مردانه

د- از گذاشتن یقه خودداری می شود

۵۰- برای تهیه نوار یا مغزی از ....

الف- از طول پارچه استفاده می شود.

ب- از عرض پارچه استفاده می شود.

ج- از اریب پارچه استفاده می شود.

د- راه یا بیراه فرقی نمی کند.

۵۱- کدام یک از جیب های زیر در لباس های کودکان بیشترین استفاده را دارد؟





الف- جیب تک فیلتاب

ب- جیب دوفیلتاب

ج- جیب رو

د- جیب داخل درز

۵۲- در لباس های نوزاد به جای دکمه و قزن از چه چیزی استفاده می شود؟

الف- از چسب ای مخصوص

ب- از زیپ

ج- از بندینک یا منگوله ظریف

د- از دکمه های برجسته

۵۳- در کلاه بچه کدام اندازه است که از بالای پیشانی و از جلوی گوش ها تا زیر چانه می گذرد؟

الف- دور سر

ب- بلندی سر

ج- دور صورت

د- دور چانه

۵۴- برای گشادی فاق جلو در سر همی نوزاد چند سانت از کادر الگو بیرون می اییم؟

الف- ۵/۲ سانت

ب- ۵/۴ سانت

ج- ۵/۵ سانت

د- ۲/۱ سانت

۵۵- پارچه پیش بند بچه بهتر است از چه جنس باشد؟

الف- ژورژت

ب- لطیف با آستر ململ

ج- پارچه کرکی

د- پارچه پشمی

۵۶- معمولا برای پارچه های لطیف چند بخیه در یک سانتی متر مناسب می باشد؟

الف- ۷ بخیه در یک سانت

ب- ۳ تا ۴ بخیه در یک سانت

ج- ۵ بخیه در یک سانت

د- ۸ بخیه در یک سانت

۵۷- طرز قرار دادن الگوری پارچه های مخمل چگونه می باشد؟

الف- الگو را سر و ته روی پارچه قرار می دهیم

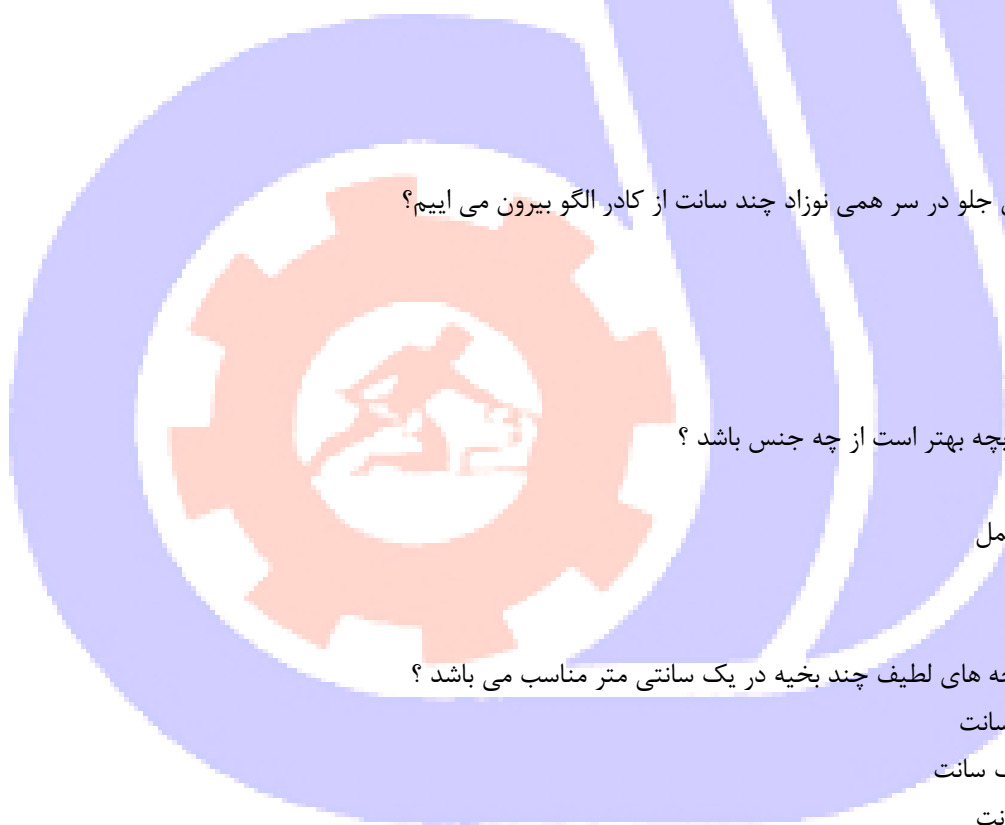
ب- الگو را در وسط پارچه قرار می دهیم

ج- الگو را بیراه روی پارچه قرار می دهیم

د- الگو را در یک جهت روی پارچه قرار می دهیم

۵۸- طریقه بدست آوردن خط سینه برای کادر بالاتنه دخترانه چگونه می باشد؟

الف- خط بالای کادر تاباسن رانصف میکنیم.



ب- خط گردن و کمر رانصف میکنیم.

ج- خط کارور تاخط کمر رانصف میکنیم.

د- خط گردن تاسرشانه رانصف میکنیم.

۵۹- برای چین های تزئینی چه مقدار پارچه لازم است؟

الف-  $1/5$  برابر اندازه انتخاب شده

ب-  $4/5$  برابر اندازه انتخاب شده

ج-  $2$  برابر اندازه انتخاب شده

د-  $3$  برابر اندازه انتخاب شده

۶۰- معمولاً درلباس هایی بابالاتنه کوتاه بهتر است چه عملی دربالاتنه انجام دهیم؟

الف- بالاتنه را بلند کنیم

ب- بالاتنه را کوتاه تر کنیم

ج- بالاتنه را دوپل کنیم

د- بالاتنه جلو را از پشت بلندتر بگیریم

۶۱- خط شانه روی کادر بالاتنه بچه چگونه بدست می آید؟

الف-  $10/1$  کادر از بالای کادر پایین میاییم

ب-  $5/1$  کادر را از بالای کادر پایین میاییم

ج- خط سینه و کارور را نصف می کنیم

د- خط کمر و بالای کادر نصف می شود

۶۲- درناف بند نوزاد باید از لطیف ترین پارچه..... استفاده کرد.

الف- پشمی

ب- کرکی

ج- فلانل

د- نخعی

۶۳- بلندی فاق یا برآمدگی باسن برای شلوار از کجا اندازه گیری می شود؟

الف- از خط کمر تا سطح صندلی درحالت نشسته

ب- از خط کمر تا خط باسن درحالت ایستاده

ج- از خط کمر تا فاق جلو

د- از خط کمر تا فاق پشت

۶۴- دور باسن چگونه اندازه گیری میشود؟

الف- از قسمت برجستگی پشت تاخط کمر

ب- از قسمت برجستگی باسن به حالت شل

ج- از برجسته ترین قسمت نشیمنگاه کودک

د- از قسمت برجستگی پشت با دودست زیر متر

۶۵- چه آستین هایی برای لباس کودکان مناسب نیست؟

الف- آستین کیمونو مرغک دار

ب- آستین گشادوراحت

ج- استین گش دار

د- استین کوتاه

۶۶- محل دکمه و جادکمه عمودی در جلو روی چه خطی دوخته می شود؟

الف- خط سجاف - خط مرکزی

ب- خط مرکزی - خط سجاف

ج- خط مرکزی - خط مرکزی

د- خط مرکزی - دوسانت جلوتر از سجاف

۶۷- خط پهنای یقه چه خطی است؟

الف- از خط برگشت تالبه خارجی یقه

ب- خط تاخوردگی یقه

ج- نقطه شروع خط شکست

د- خط برگردان یقه

۶۸- برای رسم یقه ملوانی از چه الگو رولت میشود؟

الف- بالاتنه جلو

ب- بالاتنه پشت

ج- بالاتنه پشت و جلو

د- بالاتنه پشت و جلو با استین

۶۹- روش اندازه گیری خط های منحنی حلقه استین چیست؟

الف- متر به شکل ایستاده اندازه میگیریم

ب- متر به شکل خوابیده اندازه میگیریم

ج- با خط کش اندازه میگیریم

د- با پیستوله اندازه میگیریم

۷۰- الگوهایی در کارخانه های تولیدی برش میشوند به چه صورت است؟

الف- الگوها بدون درز برش میشود

ب- الگوها با جادرز برش میشود

ج- الگوها با سه سانت درز برش میشود

د- الگوها با دو سانت درز برش میشود

۷۱- دستور های لازم بر روی الگوها چه چیزهایی می باشند؟

الف- رسم نقاط موازنه- تعداد قطعه هایی که باید برش شود

ب- علامت راستا- نام هر قطعه از الگو

ج- اضافه برای درزها- خطوط ساسون ها، پیلی ها و جیب ها

د- نقاط موازنه - راستا خطوط ساسونها و جیب و پیلی ها

۷۲- انواع مچ هارا نام ببرید؟

الف- مچ های صاف و سرتیز

ب- دابل صاف و دابل منحنی

ج- استین بابرگرد درمچ



د- مچ صاف -دوبل صاف و منحنی - برگرد در مچ  
۷۳- برای اندازه گیری یقه های ایستاده به چه اندازه ای لازم داریم؟

الف- ۲/۱ خط گردن در الگو

ب- ۲/۱ خط گردن در لباس

ج- ۲/۱ دور گردن اندازه گیری شده

د- ۲/۱ دور گردن + ۲ سانت

۷۴- در دامن پلیسه قسمت تای پیلی چقدر می باشد؟

الف- قسمت تای پیلی دوبرابر عرض روی پیلی است.

ب- قسمت تای پیلی سه برابر عرض روی پیلی است.

ج- قسمت تای پیلی چهار برابر عرض روی پیلی است.

د- قسمت تای پیلی یک و نیم برابر عرض روی پیلی است.

۷۵- دامن چهار ترک روی چه الگویی رولت می شود؟

الف- دامن اولیه

ب- دامن پلیسه

ج- دامن کلوش

د- دامن فون

۷۶- خط مرکزی جلو را با چه علامتی نشان می دهند؟

الف- C.B

ب- F

ج- C.F

د- G

۷۷- به دلیل برآمدگی شکم در کودکان به لبه دامن و پیراهن و بلوز چه اندازه اضافه می شود؟

الف- ۵/۰ سانت

ب- ۱ سانت

ج- ۲۵/۱ سانت

د- ۵/۱ سانت

۷۸- از خط اتو شلوار میتوان به عنوان..... استفاده نمود.

الف- راستا

ب- خط مرکزی جلو

ج- خط مرکزی پشت

د- نقاط اتصال شلوار

۷۹- برای رسم گودی حلقه یقه پشت از چه فرمولی استفاده می شود؟

الف- ۶/۱ دور گردن منهای ۲/۰

ب- ۵/۱ دور گردن منهای ۵/۰

ج- ۶/۱ دور گردن منهای ۵/۰

د- ۵/۱ دور گردن منهای ۲/۰



۸۰- درز لباس کودکان را با چه روشی میتوان دوخت؟

الف- درز فرانسوی - ایستاده

ب- درز شکسته- دوبله

ج- درز خوابیده- شکسته

د- درز فرانسوی- شکسته - خوابیده

۸۱- یقه های گرد، هفت، خشتی جزء کدام دسته از یقه ها می باشند؟

الف- یقه های ایستاده

ب- یقه های ساده خطی

ج- یقه های برگردان

د- یقه های بدون پایه

۸۲- نام دیگر پهنای یقه چیست؟

الف- دکلته یقه

ب- طرح یقه

ج- پایه یقه

د- برگرد یقه

۸۳- برای رسم الگو لباس کشتی عرض کادر سینه با چه فرمولی رسم می شود؟

الف- یک چهارم دور سینه

ب- یک چهارم دور سینه-۲

ج- یک چهارم دور سینه+۲

د- یک دوم دور سینه+۲

۸۴- علامت راه پارچه کدام میباشد؟

الف- G

ب- F

ج- CB

د- S

۸۵- اهمیت ساسون ها در لباس به چه علت است؟

الف- به علت آنکه به وجود آورنده حجم، برش و خطوط روی لباس هستند

ب- به علت آنکه لباس تنگ می شود

ج- به علت آنکه لباس زیبا می شود

د- به علت آنکه خط کمر مشخص می شود

۸۶- برای سهولت در دوخت ساسون پارچه های کشتی و تریکو باید از چه وسیله ای در زیر ساسون استفاده کرد؟

الف- کاغذ

ب- پارچه نخی

ج- نوار ۲ سانتی متر

د- نوار اریب

۸۷- انواع یقه ها کدام اند؟



الف- ساده ،خطی،ایستاده

ب- برگردان،ایستاده،ساده

ج- برگردان،ایستاده

د- ساده،برگردان

۸۸- کدام آستین ها جزء آستین ها جدا می باشد؟

الف- شومیز،رگلان،پف دار

ب- شومیز،چین دار،پف دار

ج- کیمونو،پف دار ،چین دار

د- کیمونو،رگلان،شومیز

۸۹- کدام آستین ها جزء آستین های سرخود می باشد؟

الف- کیمونو،رگلان

ب- پف دار،کیمونو

ج- رگلان،شومیز

د- کیمونو،چین دار

۹۰- به چه پارچه هایی کشی گفته میشود؟

الف- پارچه هایی با کش دوران دوخته باشد.

ب- پارچه هایی که از طول کش بیاید

ج- پارچه هایی که از عرض کش بیاید

د- پارچه هایی که از طول و عرض کش بیاید

۹۱- لایی برای سجاف یقه های خطی باید به چه اندازه برش شود؟

الف- به اندازه الگوی سجاف

ب- بزرگتر از الگوی سجاف

ج- کوچکتر از الگوی سجاف

د- بستگی به مدل دارد

۹۲- چه زمانی میتوانید الگو را سروته قرار دهید؟

الف- اگر پارچه دارای خواب و ناخواب نباشد

ب- اگر پشت و روی پارچه یکسان نباشد

ج- اگر نقوش سربالا باشد

د- اگر پارچه مخمل باشد

۹۳- برای برش و تنظیم صحیح الگو بر روی پارچه فاصله دوسر خط راستا پارچه را باید تا کجا میزان کرد؟

الف- لبه ترکی

ب- لبه عرض

ج- لبه الگو

د- اریب پارچه

۹۴- کدام گزینه را باید در تکه های الگورعايت کرد؟

الف- باید انها را اتو زد .



- ب- نباید آنها را شماره گذاری کرد.  
ج- نباید روی تکه های الگو قرینه سمت راست و چپ را مشخص کرد.  
د- باید الگوها شماره گذاری کرد و اتو هم زد.  
۹۵- به طور کلی تکه های الگو چگونه باید روی پارچه گذاشته و برش شود؟

الف- پشت پارچه

ب- روی پارچه

ج- موازی با پود پارچه

د- اریب پارچه

۹۶- یک اینچ برابر با چند سانتی متر است؟

الف- ۵/۱ سانتی متر

ب- ۵/۲ سانتی متر

ج- ۵/۳ سانتی متر

د- ۵/۴ سانتی متر

۹۷- با چه روشی میتوان الگو را روی پارچه انتقال داد؟

الف- کوک شل -چرت زدن-کاربن

ب- چرت زدن -کوک -بخیه کردن

ج- کاربن -بخیه کردن -زیگزاک

د- قیچی زدن -زیگزاک -چرخ کردن

۹۸- برای مشخص کردن نقاط موازنه روی پارچه از کدام روش انتقال استفاده می شود؟

الف- کوک شل

ب- صابون

ج- چرت زدن

د- کوک شلال

۹۹- نور در یک اتاق کار خیاطی باید چگونه باشد؟

الف- باید از نور کافی برخوردار باشد

ب- باید نور خیره کننده باشد

ج- نباید نور غیرمستقیم باشد

د- باید از نور زرد و قرمز استفاده کرد

۱۰۰- عمل جابجا کردن پنس ها را از نقطه ای به نقطه ی دیگر چه می گویند؟

الف- تبدیل پنس به چین

ب- بستن پنس

ج- دوخت پنس

د- انتقال پنس

